

Des Hommes et des objets

Pb1 Activité 2B

OST - Les Objets et les Systèmes Techniques : leurs usages et leurs interactions à découvrir et à analyser

L'évolution des OST

OST 1.1

à

OST 1.4

Nom :


Prénom :

5^{ème} :

Situation problème : Création du musée des transport et du guide visiteur.

⇒ ☐ Rechercher les années d'inventions des objets :

Motocyclette Werner



A

Année : _____

Draisienne



B

Année : _____

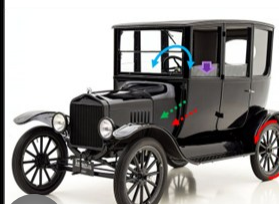
Vélocipède des Michaux



C

Année : _____

Ford T



D

Année : _____

Yamaha PAS



E

Année : _____

farrier de Cugnot



F

Année : _____

Citroën 2cv



G

Année : _____

Parreaux



H

Année : _____

Grand BI d'Ariel



I

Année : _____


VTT Proflex



J

Année : _____

Benz Patent Motorwagen



K

Année : _____

Chemineau 1



L

Année : _____

Vélocipède de Lawson



M

Année : _____

Citroën traction avant



N

Année : _____

Bicyclette de sécurité 1



O

Année : _____

⇒ ☐ Vérifier que les dates des objets correspondent bien à l'ordre chronologique des objets ? ☐ OUI ☐ NON

⇒ ☐ Si c'est NON, pourquoi peut-il y avoir des erreurs ?

⇒ ☐ Demander les étiquettes au professeur et réaliser au dos le guide de notre musée.

Pour aller plus loin : Trouve et propose au directeur un nouveau vélo à acheter pour notre musée. Explique ton choix.

Voici le guide de la visite de notre musée remis à chaque visiteur.

1– Mettre les objets en ordre chronologique 2– Ecrire les dates au-dessus des photo 3– Tracer les lignées avec des flèches en dessous des photos 4- Montrer au professeur 5– Coller les photos.

Nom de la lignée

Famille des : _____

Dates

Objet

Lignées

Famille des : _____

Dates

Objet

Lignées

Famille des : _____

Dates

Objet

Lignées