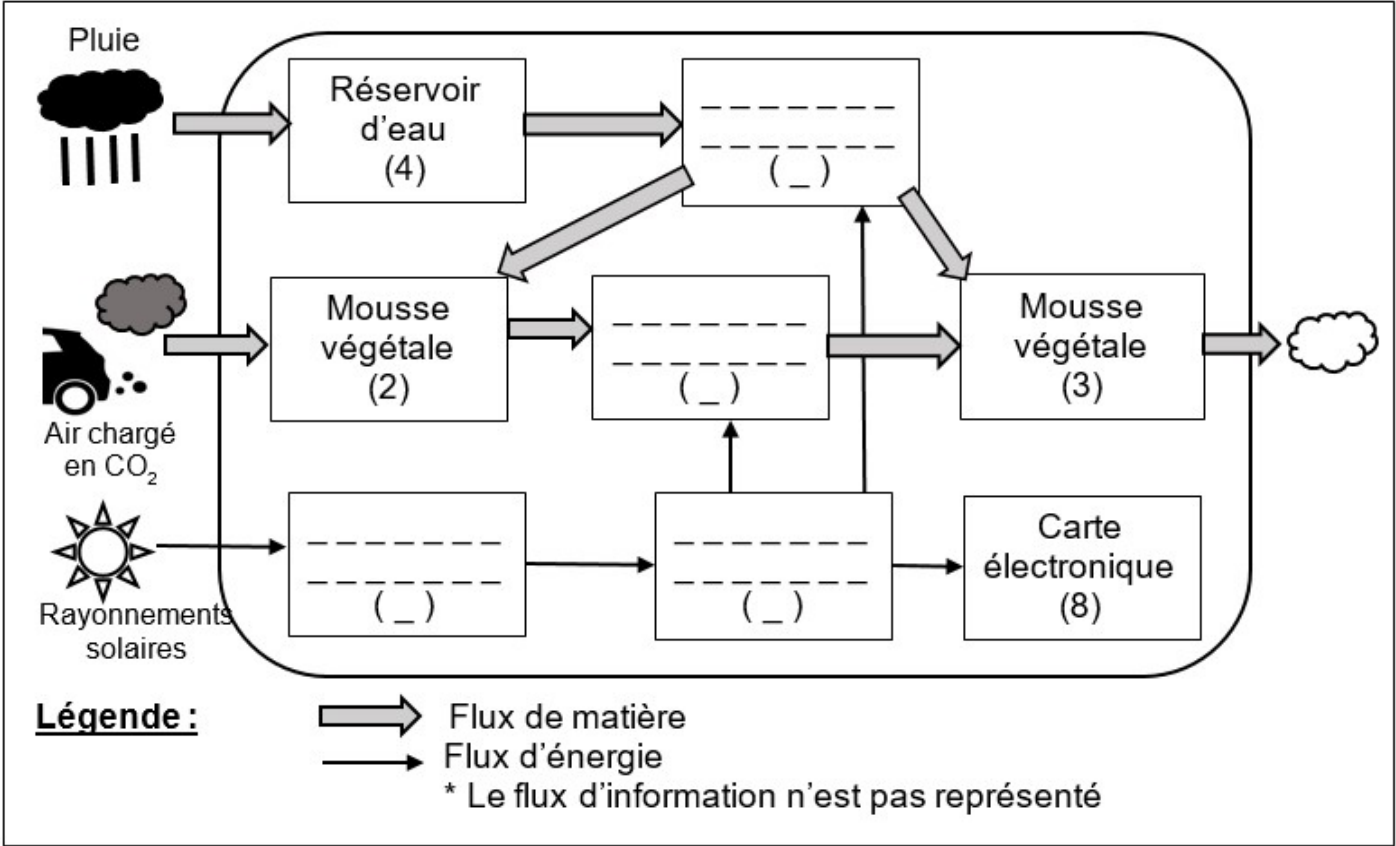
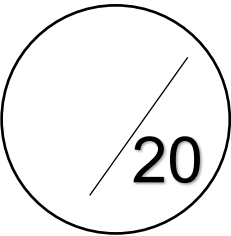


Feuille à rendre obligatoirement - (Pas de copie à rendre)

Question 1(4pts) - Diagramme simplifié\* des blocs internes du mur végétal

.... /4pts



Q1 : Placer les termes suivants :

- Ventilateurs (1)
- Motopompe (5)
- Panneau solaire (6)
- Batterie (7)

Question 2 (4pts) - Désigner le matériau le mieux adapté pour fabriquer le châssis

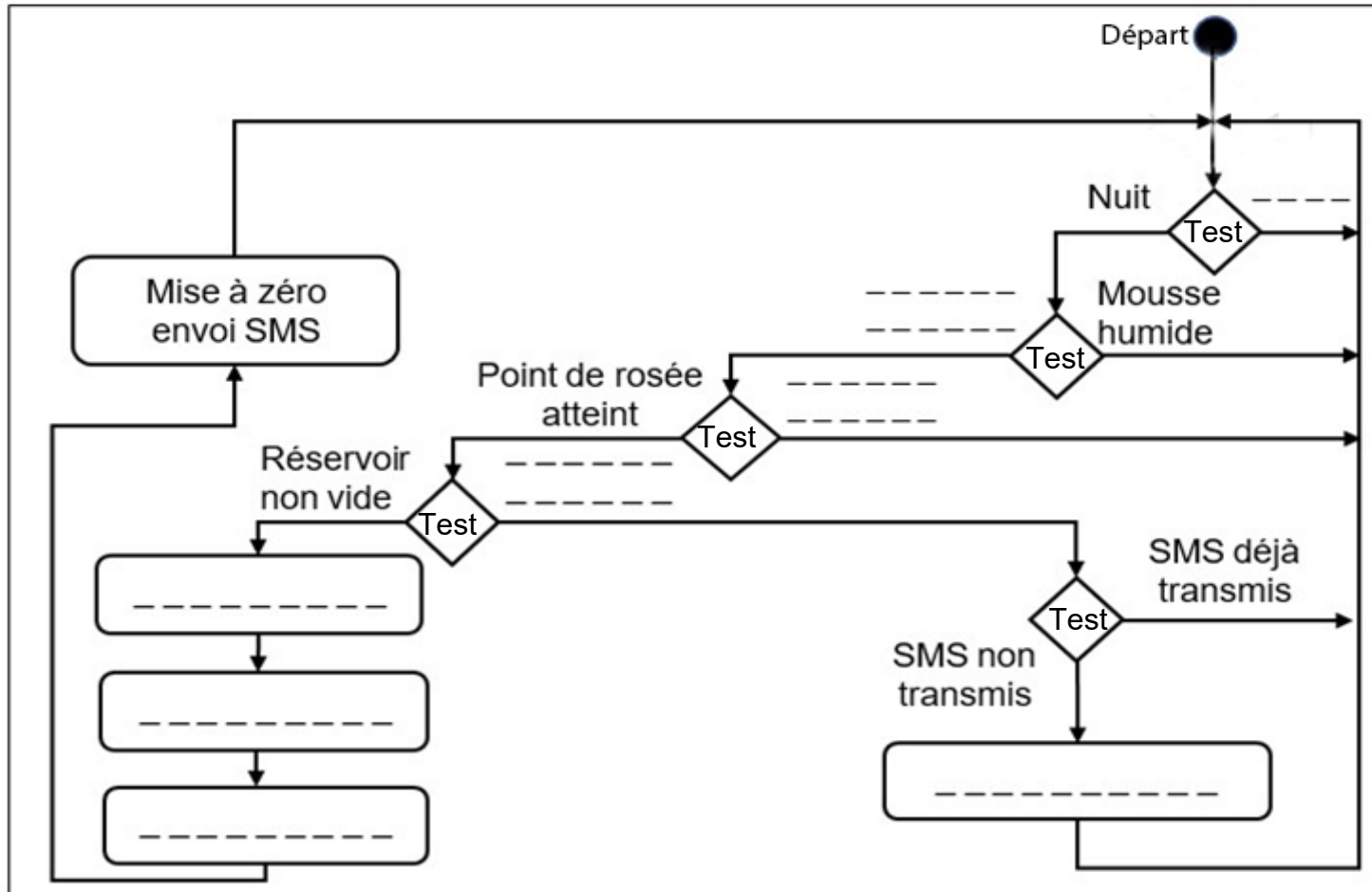
.... /4pts

Matériau choisi : \_\_\_\_\_

Justifier votre réponse : \_\_\_\_\_

**Question 3 (8pts)** - Diagramme d'activité du mur végétal

..... /8pts



Q3 : Placer les termes suivants

- Envoyer SMS ;
- Point de rosée non atteint
- Mousse desséchée
- Jour
- Réservoir vide
- Attendre 120 s
- Arrêter motopompe
- Démarrer motopompe ;

**Question 4 (4pts)** - Compléter le SMS à envoyer

..... /4pts

ALERTE MUR VÉGÉTAL : \_\_\_\_\_ - \_\_\_\_\_ - \_\_\_\_\_